

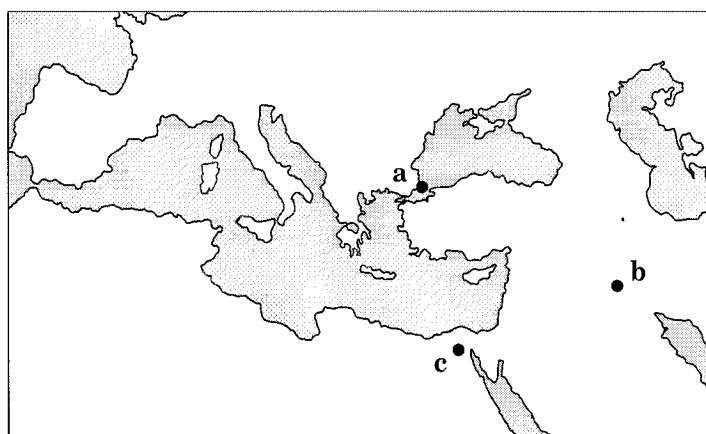
世界史 A

(解答番号 ~)

第1問 戦争は、兵器の開発・改良、戦略や戦術の革新のみならず、人材育成や国家財政にまで影響を及ぼすことがあった。戦争と軍隊について述べた次の文章A～Cを読み、下の問い(問1～11)に答えよ。(配点 34)

A オスマン帝国は、デウシルメ制度という、スルタンの^{きんじゆう}近習や国家官僚、軍人を育成する独自の制度を持っていた。16世紀中ごろに①オスマン帝国の首都に駐在したハプスブルク朝の使節ビュズベクは、スルタンに拝謁した際に、その玉座の豪華さや、そばに整列する②イエニチェリ軍の秩序と静寂とに驚嘆した。彼は、書簡でオスマン帝国の能力主義の昇進システムが優れていることを伝え、ヨーロッパの門閥主義や身分社会と対比した。実際にオスマン帝国は、このような軍隊によって、ヨーロッパ、アジア、アフリカにまたがる③広大な領土を獲得し、よく組織された官僚機構を通じて統治したのであった。

問1 下線部①の都市は、ギリシア人の植民市ビザンティオン(ビザンティウム)に起源を持ち、その後名前を変えて現在に至っている。この都市を示す次の地図中の位置a～cと、その名前が古いものから順に並んでいるものとの組合せとして正しいものを、次ページの①～⑥のうちから一つ選べ。



- ① a — イスタンブル → コンスタンティノープル
- ② a — コンスタンティノープル → イスタンブル
- ③ b — イスタンブル → コンスタンティノープル
- ④ b — コンスタンティノープル → イスタンブル
- ⑤ c — イスタンブル → コンスタンティノープル
- ⑥ c — コンスタンティノープル → イスタンブル

問 2 下線部②の軍隊について述べた文として誤っているものを、次の①～④のうちから一つ選べ。

- ① 歩兵からなる常備軍団であった。
- ② スルタン直属軍を構成した。
- ③ キリスト教徒を徴集し、改宗させて編成した。
- ④ 青年トルコ革命の結果、廃止された。

問 3 下線部③に関連して、オスマン帝国の軍事活動について述べた文として正しいものを、次の①～④のうちから一つ選べ。

- ① マムルーク朝を滅ぼして、エジプト・シリアを併合した。
- ② 17世紀後半にフランスのパリを包囲した。
- ③ アンカラの戦いでティムール帝国に勝利した。
- ④ アフリカのガーナ王国を滅ぼした。

世界史A

B 16世紀から④18世紀のヨーロッパにおいて、戦争は様々な点から大きな変化を遂げることになった。例えば、大砲の攻撃に対応した要塞建設ようさいといった軍事的な⑤技術革新が起り、各国は大規模な軍隊を維持するようになった。それとともに、戦争遂行のために財政基盤の強化が試みられた。自国の生産や流通といった⑥経済活動を管理することを試みていた各国は、⑦ヨーロッパだけでなく、それ以外の地域でも戦争を繰り広げるようになっていった。

問4 下線部④の時期に大西洋で行われた交易について述べた次の文中の空欄
ア ~ ウ に入れる語の組合せとして最も適当なものを、下の①~⑥のうちから一つ選べ。 4

18世紀の大西洋では、西ヨーロッパからのアなどを、西アフリカにおいてイに交換し、これを西インド諸島の植民地などに運び、そこからウなどをヨーロッパに送る三角貿易が行われていた。

- | | | | |
|---|------|------|------|
| ① | ア—砂糖 | イ—火器 | ウ—奴隷 |
| ② | ア—砂糖 | イ—奴隷 | ウ—火器 |
| ③ | ア—火器 | イ—砂糖 | ウ—奴隷 |
| ④ | ア—火器 | イ—奴隷 | ウ—砂糖 |
| ⑤ | ア—奴隷 | イ—火器 | ウ—砂糖 |
| ⑥ | ア—奴隷 | イ—砂糖 | ウ—火器 |

問 5 下線部⑤に関連して、技術革新や兵器について述べた文として正しいものを、次の①～④のうちから一つ選べ。 5

- ① 17世紀に、ダイナマイトが発明された。
- ② 18世紀に、スティーヴンソンにより蒸気機関車が実用化された。
- ③ 19世紀に、ハーグリーヴズは、製鉄にコークスを用いる方法を開発した。
- ④ 第一次世界大戦では、新兵器として戦車(タンク)が用いられた。

問 6 下線部⑥に関連して、18世紀のヨーロッパにおける経済や経済思想について述べた文として正しいものを、次の①～④のうちから一つ選べ。 6

- ① アダム＝スミスが、『諸国民の富』(『国富論』)を著した。
- ② マルクスが、『資本論』を著した。
- ③ イギリスでは、工場法が制定された。
- ④ プルードンは、資本主義社会を批判した。

問 7 下線部⑦に関連して、18・19世紀の戦争について述べた文として正しいものを、次の①～④のうちから一つ選べ。 7

- ① 北方戦争で、スウェーデンはロシアに勝利した。
- ② 七年戦争で、オーストリアはプロイセンと同盟した。
- ③ マイソール戦争後、フランスは南インド支配を確立した。
- ④ アヘン戦争で、清はイギリスに敗北した。

世界史 A

C ⑧第一次世界大戦は、史上最初の総力戦である。当初は短期間で終結すると考えられていたが、やがて戦争は長期化し、物量戦・消耗戦となったため、各国では、女性を含む多くの国民が軍需工場に動員されるとともに、国民の消費生活を国家が統制するようになる。こうして戦争が総力戦という様相を帯びるようになると、戦争の勝敗は、人口や生産力、さらには戦争に対する国民の士気などを含めた国力によって決まるという認識が生まれた。1930年代後半には、敵国の産業破壊や戦意喪失を意図する戦略爆撃が重視され、⑨都市を攻撃対象とする空襲が実行されるようになった。こうして、⑩20世紀の戦争では、一般市民の間にも多くの死傷者が出たのである。


問 8 下線部⑧の戦争が始まる前の協力関係や参戦の理由について述べた文として正しいものを、次の①～④のうちから一つ選べ。 8

- ① 三国同盟は、ドイツ・スペイン・オーストリアによる協力関係である。
- ② 三国協商は、イギリス・ロシア・フランスによる協力関係である。
- ③ 日本は、フランスとの同盟を理由にドイツに宣戦した。
- ④ ロシアは、サラエヴォ事件をきっかけとしてセルビアに宣戦した。

問 9 同じく下線部⑧に関連して、第一次世界大戦中の各国の動向について述べた文として正しいものを、次の①～④のうちから一つ選べ。 9

- ① スウェーデンは、中立国ベルギーに侵攻した。
- ② アメリカ合衆国は、戦争終結まで中立を維持した。
- ③ ドイツとロシアがマルヌで戦った。
- ④ イギリスは、自国の植民地であるインドから兵士を動員した。

- 問10 下線部⑨に関連して、次の図について述べた下の文中の空欄 **ア** と **イ** に入れる都市と人の名との組合せとして正しいものを、下の①～④のうちから一つ選べ。 **10**



©2007 - Succession Pablo Picasso - SPDA (JAPAN)

この絵は、 **ア** という都市がスペイン内戦の時にドイツ軍に空襲されたことを題材にして、 **イ** が描いた作品である。

- ① アーゲルニカ イーピカソ
- ② アーゲルニカ イーゴヤ
- ③ アーマドリード イーピカソ
- ④ アーマドリード イーゴヤ

- 問11 下線部⑩について述べた文として正しいものを、次の①～④のうちから一つ選べ。 **11**

- ① 第二次世界大戦中、ロンドンドイツ軍による空襲を受けた。
- ② アメリカ合衆国はビキニ環礁で核実験を行った後、広島と長崎に原子爆弾を投下した。
- ③ ベトナム戦争で、アメリカ合衆国は南ベトナム解放民族戦線を支援した。
- ④ 独立を求めたチェチェンを、北大西洋条約機構(NATO)軍が攻撃した。

世界史A

第2問 海洋は地球の表面積の7割を占める。人間にとって海は、日常の生活圏を超えた世界の人々との出会いと接触の機会を提供してきた。海を越えた移動と交流や海軍力について述べた次の文章A～Cを読み、下の問い(問1～11)に答えよ。

(配点 33)

A 古来、①インド洋は東西間の活発な海上交通の舞台であった。そのインド洋を越えて、インドから様々な人や物資、思想・文化が東西の他地域へと渡っていった。②インドで発達した宗教や文化を伝えた学者・宗教者、各地の港市を拠点に海上交易に従事した商人、さらには巡礼者など、海を越えていった人々の動機や目的地は様々であった。19世紀には、多くの出稼ぎ労働者が東南アジアやアフリカなどに向かう一方で、高等教育や専門資格取得のために③イギリスに向かう人々も少数ではあるが現れた。

問1 下線部①について述べた次の文章中の空欄 **ア** と **イ** に入れる語の組合せとして正しいものを、下の①～④のうちから一つ選べ。 **12**

インド洋では、8世紀以降、**ア** の船乗りたちが活発に活動するようになった。明朝皇帝の命を受け、中国からアフリカまで航海した大艦隊を率いた**イ** も **ア** であった。

- | | | |
|---|-----------------|-------|
| ① | アーイスラーム教徒(ムスリム) | イー鄭和 |
| ② | アーイスラーム教徒(ムスリム) | イー鄭成功 |
| ③ | アーキリスト教徒 | イー鄭和 |
| ④ | アーキリスト教徒 | イー鄭成功 |

問 2 下線部②について述べた文として正しいものを、次の①～④のうちから一つ
 選べ。 13

- ① スリランカ(セイロン)に上座部仏教が^{でんぼ}伝播した。
- ② サーンチーのストゥーパは、ヒンドゥー教の建造物である。
- ③ 「ヴェーダ」はジャイナ教の聖典である。
- ④ クシャーナ朝のカニシカ王が、仏教を弾圧した。

問 3 下線部③の国のアジアにおける活動について述べた文として誤っているもの
 を、次の①～④のうちから一つ選べ。 14

- ① インド産アヘンを中国に持ち込んだ。
- ② マレー半島でゴム栽培を推し進めた。
- ③ プラッシーの戦いで勝利し、タイを支配下に置いた。
- ④ 3度のビルマ戦争により、ビルマ(ミャンマー)を征服した。

世界史A

B 近代になると、海軍力は国力の重要な構成部分となり、列強は制海権の確保を目指した。清国は④19世紀後半、新鋭の軍艦を購入し、海軍力の強化を図った。しかし、その海軍は⑤日清戦争において日本海軍に敗れた。その後、日本海軍は日露戦争でロシア艦隊を破り、西太平洋で海軍力を誇示した。第一次世界大戦後、⑥ワシントン会議で、英米日の主力艦の保有比率が5：5：3とされ、さらに1930年のロンドン海軍軍縮会議で補助艦の保有比率が英米各10に対し、日本は7弱と決められた。その結果、列強間では一時的な安定状況が生まれたが、日本海軍の強い不満を引き起こした。その後、太平洋戦争が起こり、1942年、日本海軍は⑦でアメリカ海軍に大敗を喫した。

問4 下線部④の時期の中国において起こった出来事として正しいものを、次の

①～④のうちから一つ選べ。 15

- ① 辛亥革命が起こった。
- ② 満州事変が起こった。
- ③ 中国国民党が結成された。
- ④ 光緒帝が即位した。

問5 下線部⑤の戦争の講和条約で日本は遼東半島を割譲されたが、三国干渉により返還した。三国の組合せとして正しいものを、次の①～⑥のうちから一つ選べ。 16

- ① イギリスーフランスーアメリカ合衆国
- ② イギリスーフランスーロシア
- ③ イギリスーロシアーアメリカ合衆国
- ④ ドイツーフランスーアメリカ合衆国
- ⑤ ドイツーフランスーロシア
- ⑥ ドイツーロシアーアメリカ合衆国

問 6 下線部⑥について述べた文として誤っているものを、次の①～④のうちから一つ選べ。

- ① 太平洋における各国の権益をめぐって、四か国条約が結ばれた。
- ② 中国の主権と独立の尊重を決めた九か国条約が結ばれた。
- ③ イギリスの提唱によって開かれた。
- ④ フランスが参加した。

問 7 文章中の空欄 に入れる海戦の名として正しいものを、次の①～④のうちから一つ選べ。

- ① ミッドウェー海戦
- ② 日本海海戦
- ③ プレヴェザの海戦
- ④ トラファルガーの海戦

世界史 A

C アフリカ大陸南端に位置する喜望峰は、大西洋とインド洋の結節点である。ヨーロッパ人が大西洋からインド洋へ向かう航路を開拓してからは、喜望峰はアジアとの貿易の補給・中継地点として重要になった。喜望峰の近くに港湾都市ケープタウンを築いた **ア** 人は、その周囲にケープ植民地を形成した。19世紀になると、ケープ植民地は **イ** の領土となったが、やがて⑧ スエズ運河 が開通したことで、⑨ アジア・太平洋地域とヨーロッパを結ぶ航路の中継点 としてのケープタウンの役割は相対的に低下した。しかし、ヨーロッパ諸国の⑩ アフリカへの進出 が本格的になると、ケープタウンは **イ** のアフリカ政策の中心の一つに浮上した。

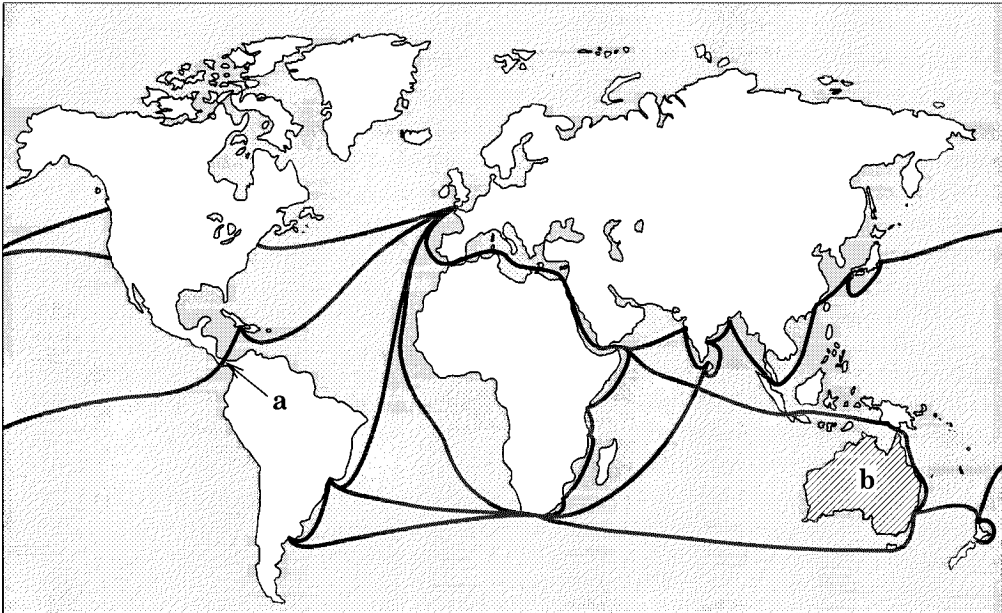
問 8 文章中の空欄 **ア** と **イ** に入れる国の名の組合せとして正しいものを、次の①～⑥のうちから一つ選べ。 **19**

- ① アーポルトガル イーイギリス
- ② アーポルトガル イーオランダ
- ③ アーオランダ イーイギリス
- ④ アーオランダ イードイツ
- ⑤ アーイギリス イーフランス
- ⑥ アーイギリス イードイツ

問 9 下線部⑧について述べた文として正しいものを、次の①～④のうちから一つ選べ。 **20**

- ① レセップスの指揮の下で、建設工事が行われた。
- ② エジプト政府の財政難から、運河会社株はアメリカ合衆国に買収された。
- ③ イスラエルが運河を占領した結果、パレスティナ戦争(第1次中東戦争)が起こった。
- ④ イラクが運河を占領した結果、湾岸戦争が起こった。

問10 下線部⑨に関連して、20世紀前半の主な航路を示した次の地図中の運河 a と、斜線部の地域 b について述べた文として正しいものを、下の①～④のうちから一つ選べ。 21



- ① a の運河は、アメリカ合衆国によって建設された。
- ② a の運河は、スエズ運河が開通する前に完成した。
- ③ b の地域は、フランスからイギリスに割譲された。
- ④ b の地域は、アメリカ合衆国の植民地から自治領となった。

問11 下線部⑩について述べた文として誤っているものを、次の①～④のうちから一つ選べ。 22

- ① リベリアは、独立を維持した。
- ② リビアは、第二次世界大戦後に独立した。
- ③ ヨーロッパ諸国は、ベルリン会議でアフリカ諸国の独立を決定した。
- ④ 多くのアフリカ諸国が独立した1960年は、「アフリカの年」と呼ばれた。

世界史A

第3問 中央と周縁との流動的關係は、国家の領域や国際秩序の枠組みを描き直し、歴史を動かす原動力の一つとなってきた。このような関係について述べた次の文章A～Cを読み、下の問い(問1～11)に答えよ。(配点 33)

A 「アメリカ民主主義に対する西部の貢献」(1903年)を著したターナーは、西に向かって拡大するアメリカ合衆国の辺境地域を「西部」という言葉で表現し、その意義を説明した。(引用文は一部書き改め、省略したところがある。)

西部出身者には、かの①ジェファソンや、旧来の保守的な政治を打破した②ジャクソン、そしてリンカンがいる。リンカンの体格と、^{おの}斧を握り森林を切り開いたその^{こぶし}拳は、まさに開拓者らしいものであった。彼は、③という荒海のなかでも、その大きな手でしっかりと、国家という船の^{かじ}舵をとったのだ。

このように④歴代大統領の名を挙げながら、ターナーは、辺境がアメリカ合衆国の民主主義を培ったのだと賞賛する。しかし辺境地域の開拓は、先住民や黒人奴隷などの犠牲の上に成り立っていた。

問1 下線部①の人物について述べた文として最も適当なものを、次の①～④のうちから一つ選べ。23

- ① 「人民の、人民による、人民のための政治」を表明した演説で知られる。
- ② 独立宣言を起草した。
- ③ ドイツからオレゴンを購入した。
- ④ イギリスとの戦争の結果、ミシシッピ川以西のルイジアナを獲得した。

問 2 下線部②に関連して、19世紀前半のアメリカ合衆国について述べた文として最も適当なものを、次の①～④のうちから一つ選べ。 24

- ① アメリカ合衆国憲法が制定された。
- ② 民主党は北部を主な支持基盤とした。
- ③ 先住民であるインディアンが迫害され、強制的に移住させられた。
- ④ 中国の門戸開放を提唱した。

問 3 文章中の空欄 ③ に入れる語として正しいものを、次の①～④のうちから一つ選べ。 25

- ① フレンチ＝インディアン戦争
- ② アメリカ＝イギリス戦争(米英戦争)
- ③ 南北戦争
- ④ 第一次世界大戦

問 4 下線部④に関連して、20世紀のアメリカ合衆国の大統領について述べた文として誤っているものを、次の①～④のうちから一つ選べ。 26

- ① ケネディは、ヴェトナム戦争を終結させた。
- ② カーターは、人権外交を展開した。
- ③ レーガンは、「強いアメリカ」を唱えた。
- ④ ブッシュは、マルタ会談を行い、東西冷戦の終結を宣言した。

世界史A

B 16世紀中ごろから約300年の間に、⑤ロシアは隣接地域に次々と領土を拡大し、先住民を統治下に組み込むことによって、多種多様な民族を支配する植民地帝国となった。帝国の西部地域では、ある程度の自治が認められることもあったが、全体として、言語や宗教などを通じた「ロシア化政策」が推し進められていた。ロシア革命の際に、帝国の崩壊によって、いくつかの⑥独立国家が誕生したが、ヴォルガ川中流域・カフカス・シベリア・中央アジアなど東方の諸民族は、⑦新たに成立したソ連への編入後も、引き続き強力な中央集権体制の下に置かれた。

問5 下線部⑤について述べた文として正しいものを、次の①～④のうちから一つ選べ。 27

- ① ピョートル1世の治世下で、イェルマークのシベリア遠征が行われた。
- ② エカチェリーナ2世の治世下で、黒海沿岸まで領土を拡大した。
- ③ オスマン帝国との間にトルコマンチャーイ条約を結び、アルメニアを獲得した。
- ④ イリ条約で沿海州を獲得し、ウラジヴォストークを建設した。

問6 下線部⑥に関連して、世界各地で20世紀に誕生した独立国について述べた文として正しいものを、次の①～④のうちから一つ選べ。 28

- ① 第一次世界大戦後に、ユーゴスラヴィアがロシアから独立した。
- ② 第二次世界大戦後に、アフガニスタンがイギリスから独立した。
- ③ インドネシアが、武力闘争の末に、オランダから独立した。
- ④ ガーナが、エンクルマの指導下で、ベルギーから独立した。


問 7 下線部⑦について述べた文として正しいものを、次の①～④のうちから一つ
選べ。

29

- ① 三月革命(二月革命)が起こると同時に、ソヴィエト社会主義共和国連邦が
成立した。
- ② 首都がモスクワからペトログラードへ移された。
- ③ 世界恐慌への対策として、新経済政策(ネップ)が採用された。
- ④ 農業の集団化が行われ、コルホーズが組織された。

世界史A

C 東北アジアの女真族(満州族)は、南進して北京を都とし、⑧中華王朝の清として東アジアに君臨した。清は来朝する国に対して、冊封や朝貢などの、⑨皇帝(天子)を頂点とする伝統的な君臣関係を要求した。これに対して、19世紀後半、日本の天皇は皇帝と称し(下図 a 参照)、⑩清・朝鮮とそれぞれ修好条規を結んだ。日清戦争を経て、⑪朝鮮の国王は清朝皇帝による冊封を離れて皇帝に即位し、国号を「韓」と改めた(下図 b 参照)。東アジアの周縁に位置する日本は、国土と国民を一元的に統治する国家の間で結ばれる近代的な国際関係への参入を目指し、さらに列強による植民地獲得競争に加わった。



a 日本の天皇が清の皇帝にあてた国書(前半)とその返書の写し

b 駐日朝鮮公使が国号の改称を日本に告げた文書の写し

問 8 下線部⑧について述べた文として正しいものを、次の①～④のうちから一つ
選べ。 30

- ① 17 世紀前半に、漢人に弁髪(辮髪)の風習を禁止した。
- ② 18 世紀前半に、キリスト教の布教を禁止した。
- ③ 19 世紀前半に、西太后が憲法制定を図る変法運動を起こした。
- ④ 20 世紀前半に、袁世凱が革命を目指す中国共産党を結成した。

問 9 下線部⑨に関連して、中国と外国との関係について述べた文として誤ってい
るものを、次の①～④のうちから一つ選べ。 31

- ① 北宋の皇帝は、高句麗の君主を冊封した。
- ② 琉球は明に朝貢し、中継貿易で栄えた。
- ③ イギリス使節マカートニーは、清との交易の拡大に失敗した。
- ④ ヴェトナムをフランスが保護国としたことから、清仏戦争が起こった。

世界史 A

問10 次の年表に示した **a** ~ **d** の時期のうち、下線部⑩に述べた朝鮮との修好条規に調印した時期として正しいものを、下の①~④のうちから一つ選べ。 **32**

1863年	朝鮮国王に高宗が即位し、大院君が摂政に就任した。 a
1869年	対馬藩が、日本の王政復古を朝鮮に通告した。 b
1875年	日本の軍艦雲揚が、江華島の砲台を破壊した。 c
1884年	朝鮮で、開化派の金玉均らが政変を起こしたが、失敗した。 d
1894年	日本軍が朝鮮の王宮を占領した。

- ① a ② b ③ c ④ d

問11 下線部⑪の地域について述べた文として正しいものを、次の①~④のうちから一つ選べ。 **33**

- ① 日本が韓国を併合し、朝鮮総督府を置いた。
② 第一次世界大戦後、「独立万歳」を叫ぶ五・四運動が起こった。
③ 第二次世界大戦中にバルフォア宣言で、朝鮮の独立が約束された。
④ 朝鮮戦争の結果、金日成が朝鮮民主主義人民共和国の首相になった。

